

Adı Soyadı :

Numara:

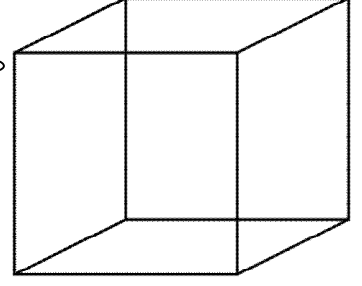
Benim adım KÜP.

KÜPÜN 12 AYRITI (KENARI) vardır.

KÜPÜN 8 KÖŞESİ vardır.

KÜPÜN 6 YÜZEYİ vardır.

Köşelerimi maviye,
Ayrıtlarımı (kenarlarımı) kırmızıya
boyar mısın? Yan yüzeyime yeşil renkli
çiçek çizer misin?



%%%

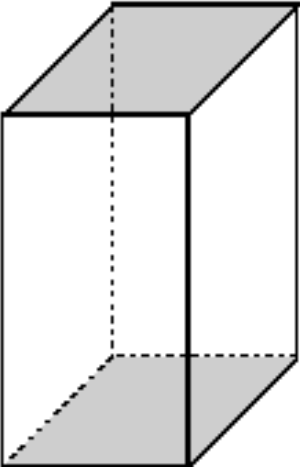
Benim adım KARE PRİZMASI

KARE PRİZMASININ 12 AYRITI (KENARI) vardır.

KARE PRİZMASININ 8 KÖŞESİ vardır.

KARE PRİZMASININ 6 YÜZEYİ vardır.

Köşelerimi maviye,
Ayrıtlarımı (kenarlarımı) kırmızıya
boyar mısın? Alt yüzeyime yeşil
renkli çiçek çizer misin?



%%%

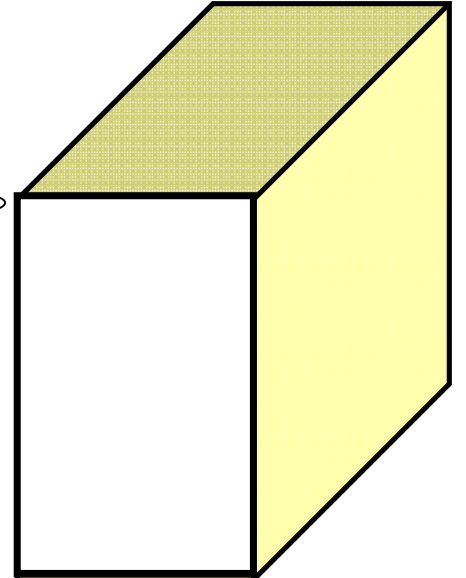
Benim adım DİKDÖRTGEN PRİZMASI.

DİKDÖRTGEN PRİZMASININ 12 AYRITI (KENARI) vardır.

DİKDÖRTGEN PRİZMASININ 8 KÖŞESİ vardır.

DİKDÖRTGEN PRİZMASININ 6 YÜZEYİ vardır.

Köşelerimi maviye,
Ayrıtlarımı (kenarlarımı) kırmızıya
boyar mısın? Üst yüzeyime yeşil
renkli çiçek çizer misin?

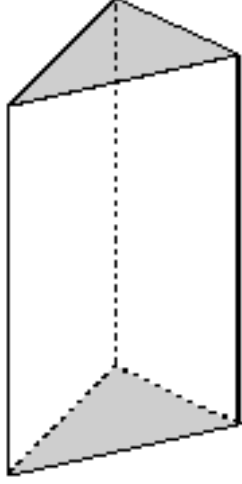


Benim adım ÜÇGEN PRİZMASI.

ÜÇGEN PRİZMASININ 9 AYRITI (KENARI) vardır.

ÜÇGEN PRİZMASININ 6 KÖŞESİ vardır.

ÜÇGEN PRİZMASININ 5 YÜZEYİ vardır.



**Köşelerimi maviye,
Ayrıtlarımı (kenarlarımı) kırmızıya
boyar mısın?**


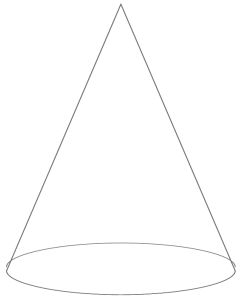

%%%

Benim adım SİLİNDİR.

SİLİNDİRİN AYRITI (KENARI) YOKTUR.

SİLİNDİRİN KÖŞESİ YOKTUR

SİLİNDİRİN 3 YÜZEYİ vardır.



Benim adım KONİ.

**Ayrıtlım(Kenarım) ve köşem
yoktur. 2 Yüzeyim vardır.**

Benim adım KÜRE.


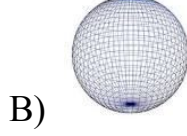
**Ayrıtlım(Kenarım) ve köşem
yoktur. 1 Yüzeyim vardır.**

Adı Soyadı:.....


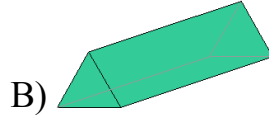
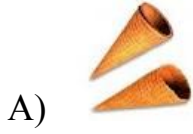
Numara:.....

SORULAR

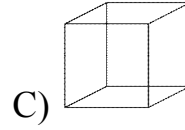
1. Aşağıdaki resimlerden hangisinin ayrıtı **yoktur**?



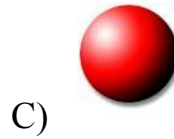

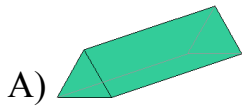
2. Aşağıdaki resimlerden hangisi koniye benzemektedir?



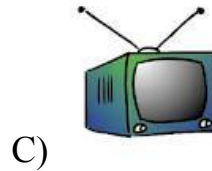

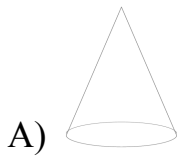
3. Aşağıdaki geometrik cisimlerin hangisinin tüm yüzeyleri karedir?



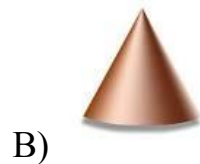
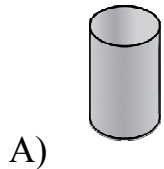
4. Aşağıdaki resimlerden hangisinin köşe sayısı fazladır?



5. Aşağıdaki resimlerden hangisinin köşesi **yoktur**?



6. Aşağıdaki resimlerden hangisinin ayrıtı vardır?





Aşağıdaki soruları yukarıdaki resimlere göre yapalım.

7. Yukarıdaki resimlerden hangileri **silindire** benzemektedir?

- A) Yalnız 1 B) 2 ve 3 C) 1 ve 3

8. Yukarıdaki resimlerden kaç tanesinin köşesi **yoktur?**

- A) 2 B) 3 C) 4

8. Yukarıdaki resimlerden kaç tanesinin ayrıtı **yoktur?**

- A) 3 B) 4 C) 5

9. Yukarıdaki resimlerden hangisi portakala benzemektedir?

- A) 2 ve 3 B) Yalnız 5 C) Yalnız 2

10. Kaç numaralı resim küptür?

- A) 5 B) 1 C) 4

11. 4 numaralı resim hangi prizmaya benzemektedir?

- A) Kare Prizma
B) Dikdörtgen Prizma
C) Üçgen Prizma

12. Köşe ve ayrıtı sayıları eşit olan şekiller hangileridir?

- A) 1 ve 4 B) 2 ve 5 C) 4 ve 5